











भाग - अ
मानसिक योग्यता

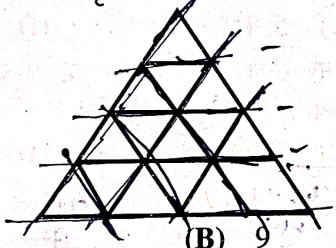


1. A, B का भाई है। D, E का भाई है। C, A का पिता है। E, B की पुत्री है, तो D के चाचा हैं -
(A) A (B) B (C) C (D) E
2. निम्नांकित में से प्रश्न चिन्हों की जगह क्या आएगा?




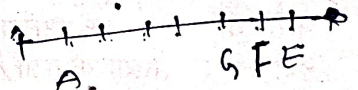
- (A)   (B)   (C)   (D)  

3. एक कॉलोनी में रहने वाले 60 लोगों में से 10 केवल बंगाली बोलते हैं, 5 केवल असमिया बोलते हैं, 10 हिन्दी व उड़िया दोनों बोलते हैं, 12 मराठी व हिन्दी दोनों बोलते हैं, 13 अंग्रेजी, तमिल व मराठी बोलते हैं, 5 असमिया व हिन्दी दोनों बोलते हैं तथा शेष बंगाली व हिन्दी दोनों बोलते हैं। बंगाली बोलने वालों का मराठी बोलने वालों के साथ अनुपात है -
(A) 15 : 32 (B) 1 : 2 (C) 3 : 4 (D) 3 : 5
4. नीचे दी गई प्रश्न आकृति में कितनी सीधी रेखाएँ हैं?



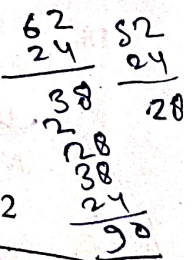
- (A) 11 (B) 9 (C) 15 (D) 48

5. A, B, C, D, E, F, G तथा H एक पंक्ति में उत्तर दिशा के सम्मुख खड़े हैं। B, G का पड़ोसी नहीं है। F, G के ठीक दाईं ओर है और E का पड़ोसी है। G एकदम कोने पर नहीं है। A, E के बाईं ओर छठे स्थान पर है। H, C के दाईं ओर छठे स्थान पर है। निम्नलिखित में से कौनसा सही है?
(A) C, A के ठीक बाईं ओर है।
(B) D, B तथा F का तुरन्त पड़ोसी है।
(C) G, D के ठीक दाईं ओर है।
(D) A और E सबसे अन्त में हैं।



- निम्नलिखित में से किस शब्द की जल छवि संमरूप नहीं होगी? 5 10 15
(i) KICK (ii) CODE (iii) HIKE (iv) DISC
(A) (i) और (iv) (B) केवल (iv) (C) केवल (ii) (D) (iii) और (iv)

7. एक परीक्षा में बैठने वाले 130 छात्रों में से 62 अंग्रेजी में, 52 गणित में अनुत्तीर्ण हुए, जबकि 24 अंग्रेजी और गणित में अनुत्तीर्ण हुए। अन्त में उत्तीर्ण होने वाले छात्रों की संख्या है -
(A) 40 (B) 50 (C) 55 (D) 60



8. निम्नलिखित को एक सार्थक क्रम में व्यवस्थित करें -
(1) ऋण अनुमोदन (2) संवितरण (3) आवेदन (4) सत्यापन
(A) 3, 1, 2, 4 (B) 3, 4, 2, 1 (C) 3, 4, 1, 2 (D) 4, 3, 1, 2

Handwritten calculations and scribbles at the bottom of the page.

9.

छः गाँव A, B, C, D, E तथा F हैं। F, D के पश्चिम में 1 कि.मी. दूर है। B, E से 1 कि.मी. पूर्व में है। A, E से 2 कि.मी. उत्तर में है। C, A से 1 कि.मी. पूर्व में है। D, A से 1 कि.मी. दक्षिण में है। कौनसे गाँव एक पंक्ति में हैं?

(A) A, C, B

(B) A, D, E

(C) C, B, F

(D) E, B, D

10. बेमेल को पहचानें -

(A) निपुणता

(B) क्षमताएं

(C) दक्षता

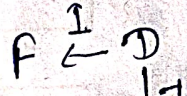
(D) अक्षमता

11.

'?' के स्थान पर आने वाली संख्या ज्ञात कीजिए -

| | | |
|---|-----|---|
| 3 | 370 | 7 |
| 2 | 224 | 6 |
| 1 | 730 | ? |

$$\begin{array}{r} 10 \times 10 \\ 21 \times 21 \\ \hline 441 \times 21 \end{array}$$



(A) 5

(B) 8

(C) 9

(D) 11

12. नीचे दिए गए शब्दों को शब्दकोषानुसार व्यवस्थित करें और बताएं कि दूसरे स्थान पर कौनसा शब्द आएगा?

(A) Pragmatic

(B) Praiseworthy

(C) Precious

(D) Practical

13. दिए गए शब्दों को उस क्रम में व्यवस्थित कीजिए, जिस क्रम में वे शब्दकोष (अंग्रेजी) में आते हैं तथा सही क्रम का चयन कीजिए -

(1) Precede

(2) Precision

(3) Precise

5 1 4 3 2 6

(4) Precept

(5) Preach

(6) Prelude

(A) 5, 3, 1, 4, 2, 6

(B) 5, 1, 4, 3, 2, 6

(C) 5, 1, 3, 4, 2, 6

(D) 5, 1, 4, 2, 3, 6

14. रमा को रानी से ज्यादा नंबर मिले, रानी को रत्ना से कम नंबर मिले, रत्ना को पद्मा से ज्यादा नंबर मिले, पद्मा को रमा से ज्यादा लेकिन रत्ना से कम नंबर मिले। सबसे ज्यादा नंबर-किससे मिले?

(A) रमा

(B) रत्ना

(C) पद्मा

(D) रानी

15. पेट्रोल : फॉस्फोरस : रसोई गैस
उपरोक्त में क्या समानता है?

(A) ये ईंधन हैं।

(B) ये अत्यधिक ज्वलनशील हैं।

(C) इन्हें बिना अनुमति के नहीं बेचा जा सकता।

(D) भारत को इनका आयात करना पड़ता है।

16. नीचे दी गई अक्षर/संख्या सीरीज़ में से पता लगाएं कि बाईं ओर से 5वें अक्षर/संख्या के दाईं ओर 8वाँ अक्षर/संख्या कौनसा/सी है?

5N6QRM09BVZMS8D

(A) R

(B) 8

(C) S

(D) 6

17. पुजारी ने भक्त से कहा, "मंदिर की घंटी प्रत्येक 45 मिनट के नियमित अन्तराल पर बजाई जाती है। पिछली बार घंटी पाँच मिनट पहले बजाई गई थी। अगली बार घंटी प्रातः 7:45 बजे बजाई जाएगी।" पुजारी ने भक्त को यह जानकारी किस समय दी?

(A) प्रातः 7:40

(B) प्रातः 7:00

(C) प्रातः 6:55

(D) प्रातः 7:05

18. एक लड़के की ओर इशारा करते हुए रोशन कहता है, "यह लड़का मेरे पिता की इकलौती संतान का बेटा है।" रोशन की पत्नी का उस लड़के से क्या संबंध है?

(A) माता

(B) चाची

(C) बहन

(D) पुत्री

19. WHITE का दर्पण प्रतिबिम्ब क्या होगा?

(A) ELIHW

(B) WHITE

(C) ETIHW

(D) ETIHW

20. लता अपने घर से 15 कि.मी. पश्चिम की ओर गई, फिर बाईं ओर मुड़कर 20 कि.मी. चली, वह फिर पूर्व की ओर मुड़ी और 25 कि.मी. चली और अंत में बाईं ओर मुड़कर 20 कि.मी. चली, अब वह अपने घर से कितनी दूर है?
 (A) 20 कि.मी. (B) 10 कि.मी. (C) 5 कि.मी. (D) 25 कि.मी.

निम्नलिखित सूचना को पढ़कर प्र. सं. 21 - 23 के उत्तर दीजिए -

रवि और कुपाल हॉकी और वॉलीबॉल में अच्छे हैं। सचिन और रवि हॉकी और बेसबॉल में अच्छे हैं। गौरव और कुपाल क्रिकेट और वॉलीबॉल में अच्छे हैं। सचिन, गौरव और माइकल फुटबॉल और बेसबॉल में अच्छे हैं।

21. हॉकी, क्रिकेट और वॉलीबॉल में कौन अच्छा है?
 (A) सचिन (B) कुपाल (C) रवि (D) गौरव
22. बेसबॉल, क्रिकेट, वॉलीबॉल और फुटबॉल में कौन अच्छा है?
 (A) सचिन (B) कुपाल (C) गौरव (D) रवि
23. बेसबॉल, वॉलीबॉल और हॉकी में कौन अच्छा है?
 (A) सचिन (B) कुपाल (C) रवि (D) गौरव

24. सही विकल्प का चयन करें -

DESK : 03 :: BOOK :

- (A) 5 (B) 18

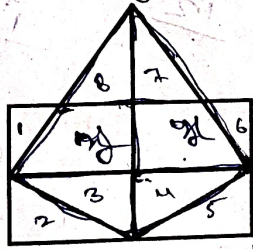
25. श्रृंखला को पूरा करें -

48, 24, 72, 36, 108,

- (A) 115 (B) 216 (C) 121 (D) 54

26. एक निश्चित कूट भाषा में यदि 'BOARD' को '54937' और 'WALK' को '2918' लिखा जाता है, तो उसी भाषा में 'DRAWL' को कैसे कूटबद्ध किया जाएगा?
 (A) 73921 (B) 37981 (C) 19372 (D) 73495

27. दिए गए चित्र में त्रिभुजों की संख्या ज्ञात कीजिए -



- (A) 11

- (B) 17

- (C) 13

- (D) 15

28. एक मीटिंग में, एक शहर का नक्शा इस तरह रखा गया था कि दक्षिण-पूर्व, उत्तर बन जाता है, उत्तर-पूर्व, पश्चिम बन जाता है, तो उसी तरह, उत्तर क्या बनेगा?
 (A) पूर्व (B) दक्षिण-पश्चिम (C) उत्तर-पूर्व (D) पश्चिम

29. मंगलवार को बैठक स्थल पर मैं 08:30 बजे से 15 मिनट पहले पहुँचा। वहाँ पहुँचने पर मैंने पाया कि मैं उस व्यक्ति से आधा घंटा पहले पहुँचा था, जो 40 मिनट देर से आया था। बैठक का निर्धारित समय क्या था?
 (A) 08:00 बजे (B) 08:05 बजे (C) 08:15 बजे (D) 08:45 बजे

30. निम्नलिखित में से कौनसा लीप वर्ष नहीं है?

- (A) 4800

- (B) 1992

- (C) 1884

- (D) 1900

31. यदि REASON को 5 लिखा जाता है तथा BELIEVED को 7 लिखा जाता है, तो GOVERNMENT को कैसे कूटबद्ध किया जाएगा?
 (A) 6 (B) 10 (C) 8 (D) 9

32. वह सही संख्या ज्ञात करें जो प्रश्न चिन्ह की जगह लेगी -

TK : 2313 :: JO :

- (A) 1317

- (B) 298

- (C) 4529

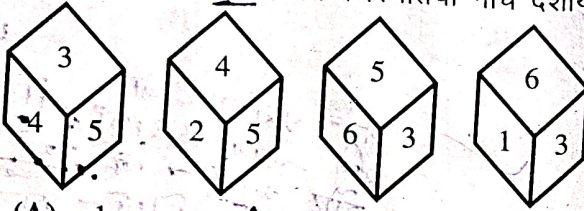
- (D) 2219

33. एक निश्चित कूट भाषा में -
 (i) 'pit na som' का अर्थ है 'bring me water'
 (ii) 'na job tod' का अर्थ है 'water is life'
 (iii) 'tub od pit' का अर्थ है 'give me toy'
 (iv) 'jo lin kot' का अर्थ है 'life and death'



उस भाषा में 'is' का अर्थ निम्नलिखित में से कौन दर्शाता है?

- (A) jo (B) na (C) tod (D) lin
 34. यदि आग को हवा, हवा को पानी, पानी को बादल और बादल को बुलबुला कहा जाए, तो मछलियाँ कहाँ तैरेंगी?
 (A) हवा (B) पानी (C) बुलबुला (D) बादल
 35. यदि एक पासे की चार विभिन्न स्थितियाँ नीचे दर्शायी गयी हों, तो कौनसा अंक 6 के ठीक विपरीत होगा?



- (A) 1 (B) 5 (C) 2 (D) 4

नीचे दी गयी तालिका में, कौनसा अक्षर प्रश्न चिन्ह की जगह लेगा?

| | | |
|----|-----|---|
| 7 | HFG | 3 |
| 19 | OKL | 2 |
| 8 | RAM | 4 |
| 20 | VFL | 2 |
| 9 | O?C | 3 |

- (A) K (B) L (C) I (D) J

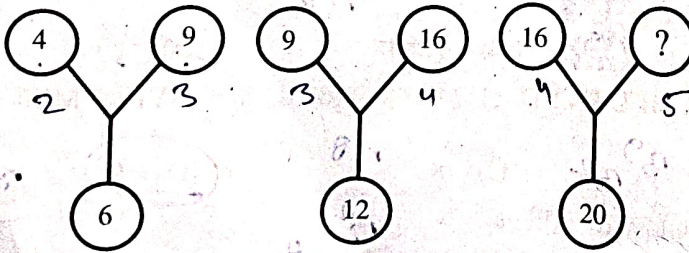
37. यदि 'x' का अर्थ 'जोड़', '-' का अर्थ 'भाग', '÷' का अर्थ 'घटाना' तथा '+' का अर्थ 'गुणा' हो, तो निम्नलिखित में से कौनसा सही है?

- (A) $16 \times 5 \div 10 * 4 \div 3 = 9$
 (B) $16 - 5 \times 10 \div 4 + 3 = 12$
 (C) $16 + 5 \div 10 \times 4 - 3 = 9$
 (D) $16 \times 5 \div 10 \div 4 - 3 = 19$

38. एक दिन में घड़ी की सुईयाँ कितनी बार समकोण पर होती हैं?

- (A) 44 (B) 48 (C) 24 (D) 22

39. दिए गए चित्र में अज्ञात अंक ज्ञात कीजिए -



- (A) 60 (B) 40 (C) 50 (D) 25


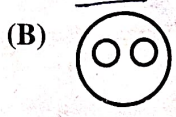


40. तीन-तीन साल के अंतराल पर पैदा हुए 5 बच्चों की उम्र का योग 50 साल है। सबसे छोटे बच्चे की उम्र क्या है?

- (A) 8 साल (B) 10 साल (C) 4 साल (D) 12 साल

41. 42 मिनट का 2 घंटों के साथ क्या अनुपात होगा?

- (A) 14 : 15 (B) 7 : 20 (C) 3 : 5 (D) 6 : 7





42. निम्नांकित में से कौनसा वेन आरेख जादूगरों, संगीतकारों और पेशेवरों के मध्य सही संबंध को दर्शाता है?

- (A)  (B)  (C)  (D) 

43. इंडिया, गेट : दिल्ली :: :

- (A) शिकागो : अमेरिका (B) अल्बानी : न्यूयॉर्क
(C) आगरा : ताजमहल (D) चंडीगढ़ : रॉक गार्डन

44. दिए गए तीन तत्वों के मध्य सही संबंध को प्रदर्शित कीजिए -
कीड़े, तितलियाँ, बिल्लियाँ

- (A)  (B)  (C)  (D) 


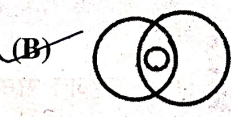

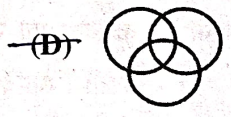
45. निम्नलिखित विकल्पों में दी गई संख्याओं में कोई संबंध है। विषम का चयन कीजिए -

- (A) 3 : 8 (B) 6 : 35 (C) 7 : 50 (D) 1 : 0

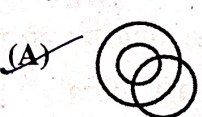
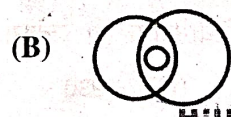
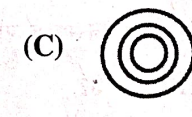
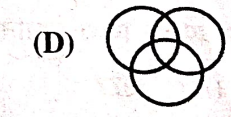
प्रश्न संख्या 46-47 का निम्न सूचनाओं के आधार पर उत्तर दीजिए -

नीचे दिए गए प्रत्येक प्रश्न में तीन मर्दों की गई हैं, जिनके मध्य एक निश्चित संबंध है। इसी संबंध को वेन-आरेखों द्वारा दर्शाया गया है। मर्दों का सही वेन-आरेख से मिलान कीजिए -

46. महिलाएँ, विवाहित व्यक्ति, कामकाजी पत्नियाँ

- (A)  (B)  (C)  (D) 

47. कम्प्यूटर दक्ष, स्नातक, कामकाजी

- (A)  (B)  (C)  (D) 

48. बेमेल को पहचानें -

- (A) मछली (B) मेंढक (C) मगरमच्छ (D) कछुआ

49. दिए गए कथन से पता लगाए कि कौनसा तर्क एक मजबूत तर्क है?

कथन : क्या रंगीन टेलीविजन पर टैक्स बढ़ाए जाने चाहिए?

तर्क (I) : हाँ, क्योंकि रंगीन टेलीविजन एक लग्जरी वस्तु है और इसे सिर्फ अमीर लोग ही खरीदते हैं।

(II) : नहीं, टेलीविजन गरीब लोग भी खरीदते हैं।

- (A) केवल तर्क (I) मजबूत है।
(B) केवल तर्क (II) मजबूत है।
(C) तर्क (I) और तर्क (II) दोनों मजबूत हैं।
(D) न तो तर्क (I) और न ही तर्क (II) मजबूत है।

50. लड़कियों की एक कतार में, अरुणा दाईं ओर से 12वें और बाईं ओर से चौथे स्थान पर है। उस कतार में 28 लड़कियाँ होने के लिए कितनी और लड़कियों को शामिल किया जाना चाहिए?

- (A) 12 (B) 13 (C) 14 (D) 30

भाग-ब
राजस्थान की सामान्य जानकारी

51. राजस्थान में सड़क घनत्व कितना है?
 (A) 80.50 कि.मी./100 वर्ग कि.मी. (B) 77.20 कि.मी./100 वर्ग कि.मी.
 (C) 92.66 कि.मी./100 वर्ग कि.मी. (D) 82.76 कि.मी./100 वर्ग कि.मी.
52. राजस्थान राज्य की आर्थिक समीक्षा 2024-25 के अनुसार, सकल राज्य मूल्यवर्धन में औद्योगिक क्षेत्र का योगदान कितना है?
 (A) 11.04% (B) 45.92% (C) 26.92% (D) 27.16%
53. राजस्थान ऊर्जा विकास एजेन्सी (रेडा) की स्थापना कब की गई थी?
 (A) 2002 (B) 1985 (C) 2010 (D) 1999
54. राजस्थान का वह शहर कौनसा है, जहाँ स्वतंत्रता से पूर्व हवाई अड्डा था?
 (A) जयपुर (B) अजमेर (C) जोधपुर (D) माउंट आबू
55. राजस्थान में निम्नलिखित में से किस कस्बे का विकास और रखरखाव हिन्दुस्तान कॉपर लिमिटेड द्वारा किया जाता है?
 (A) राजनगर (B) खेतंडी (C) हुरड़ा (D) दरीबा (चित्तौड़)
56. राजस्थान राज्य सड़क परिवहन निगम की स्थापना किस वर्ष हुई?
 (A) 1956 (B) 1964 (C) 1972 (D) 1980
57. वर्तमान राजस्थान विधानसभा (सोलहवीं विधानसभा) में 26 जनवरी, 2026 को यथानुरूप निम्नलिखित में से किस राजनीतिक दल का केवल एक सदस्य है?
 (A) भारतीय आदिवासी पार्टी (B) बहुजन समाज पार्टी
 (C) राष्ट्रीय लोकदल (D) राष्ट्रीय लोकतांत्रिक पार्टी
58. सर्वप्रथम किस विधानसभा चुनाव में राजस्थान राज्य विधानसभा की सदस्य संख्या 200 सीमांकित की गई?
 (A) 1977 (B) 1967 (C) 1980 (D) 1972
59. 1952 में राजस्थान राज्य विधानसभा के पहले चुनावों में कुल निर्वाचन क्षेत्र कितने थे?
 (A) 140 (B) 160 (C) 120 (D) 167
60. राजस्थान में अभी तक अनुच्छेद 356 का प्रयोग कितनी बार किया गया है?
 (A) एक बार (B) दो बार (C) तीन बार (D) चार बार
61. कर्क रेखा राजस्थान के किन जिलों से होकर गुजरती है?
 (A) बाँसवाड़ा - डूंगरपुर (B) उदयपुर - प्रतापगढ़
 (C) सिरोही - उदयपुर (D) उदयपुर - चित्तौड़गढ़
62. निम्नलिखित में से कौनसा जिला 'लूनी बेसिन' का हिस्सा नहीं है?
 (A) जोधपुर (B) पाली (C) डीडवाना (D) जालौर

63. राजस्थान के निम्नलिखित जिलों में से कौनसा शुष्क-सागवान वन का हिस्सा नहीं है?
 (A) बाँसवाड़ा (B) झालावाड़ (C) चित्तौड़गढ़ (D) करौली
64. अरावली पर्वत श्रृंखला किस भूवैज्ञानिक शैल प्रणाली से सम्बन्धित है?
 (A) गोण्डवाना शैल (B) दक्कन ट्रैप (C) प्री-कैम्ब्रियन शैल (D) जलोढ़ निक्षेप
65. राजस्थान में किस नदी को 'मृत नदी' कहा जाता है?
 (A) लूणी (B) बनास (C) घग्गर (D) चम्बल
66. राजस्थान की सर्वोच्च चोटी 'गुरु शिखर' कहाँ स्थित है?
 (A) जैसलमेर (B) माउण्ट आबू (C) जयपुर (D) उदयपुर
67. वह एकमात्र रियासत कौनसी थी जहाँ 'उत्तराधिकार शुल्क' नहीं लिया जाता था?
 (A) जयपुर (B) उदयपुर (C) बीकानेर (D) जैसलमेर
68. 'राजपूत काल' सामान्यतः किस अवधि को संदर्भित करता है?
 (A) 6वीं - 12वीं शताब्दी (B) 1 - 5वीं शताब्दी
 (C) 13वीं - 18वीं शताब्दी (D) 19वीं शताब्दी
69. राजस्थान को वर्तमान नाम कब मिला?
 (A) 1947 (B) 1948 (C) 1949 (D) 1956
70. स्थापना के दृष्टिकोण से निम्नलिखित में से सबसे प्राचीन शहर कौनसा है?
 (A) टोंक (B) डूंगरपुर (C) जोधपुर (D) जैसलमेर
71. निम्नलिखित में से किस युद्ध में बूँदी का शासक शत्रुसाल हाड़ा मारा गया था?
 (A) बैराठ की लड़ाई (B) खानवा की लड़ाई
 (C) दिवेर की लड़ाई (D) धरमत की लड़ाई
72. सुण्डा पर्वत का शिलालेख कहाँ स्थित है?
 (A) देलवाड़ा (आबू) (B) चीरवा (उदयपुर)
 (C) जसवंतपुरा (जोधपुर) (D) बिजौलिया (भीलवाड़ा)
73. राज्य पुनर्गठन अधिनियम, 1956 के अन्तर्गत निम्नलिखित में से राजस्थान का कौनसा भाग मध्य भारत (मध्य प्रदेश) को दिया गया?
 (A) सुनेल टप्पा (B) भानपुर (C) सिरोंज (D) स्वरूपगंज
74. निम्नलिखित में से कौनसा युग्म सुमेलित है?
- | कृति | लेखक |
|-----------------------------|-----------------|
| (A) वीरविनोद | - ईसरदास |
| (B) हाला झाला री कुण्डलियां | - श्यामलदास |
| (C) हमीरायण | - भांडूक व्यास |
| (D) रुक्मिणी-हरण | - नरप्रति नाल्ह |

75. ब्रिटिश शासन काल के दौरान राजस्थान की वह पहली देशी रियासत कौनसी थी, जिसने कन्या वध को गैर-कानूनी घोषित किया था?
- (A) कोटा (B) उदयपुर (C) जोधपुर (D) बीकानेर
76. छीतर महल का दूसरा नाम क्या है?
- (A) हवा महल (B) उम्मेद महल (C) तलहटी महल (D) विण्डसर महल
77. निम्नलिखित में से कौनसा सुमेलित नहीं है?
- (A) लोंगेवाला वॉर मेमोरियल - जैसलमेर (B) महाराव माधो सिंह संग्रहालय - नागौर
(C) जसवंत थड़ा - जोधपुर (D) आम्रपाली संग्रहालय - जयपुर
78. 'नीला पानी मेला' राजस्थान के किस जिले में आयोजित होता है?
- (A) बाँसवाड़ा (B) डूंगरपुर (C) प्रतापगढ़ (D) उदयपुर
79. निम्नलिखित में से किस जनजाति का पंचायत मुखिया 'पालवी' कहलाता है?
- (A) मीणा (B) सहरिया (C) भील (D) गरासिया 1.16.572
80. निम्नलिखित में से किस जनजाति के घरों के समूह को 'शहरोल' कहा जाता है?
- (A) मीणा (B) भील (C) सहरिया (D) गरासिया
81. गवरी का उद्भव किस कथा से माना जाता है?
- (A) शिव-भस्मासुर की कथा से (B) देव-असुर संग्राम की कथा से
(C) रामायण की कथा से (D) महाभारत की कथा से
82. 'बम नृत्य' कहाँ का प्रसिद्ध है?
- (A) जालौर-सिरोही (B) बाँसवाड़ा-डूंगरपुर (C) अलवर-भरतपुर (D) बीकानेर-जोधपुर
83. निम्नलिखित में से कौनसा युग्म सुमेलित नहीं है?
- (A) दाउदी बोहरा उर्स - गलियाकोट (B) घोटिया अम्बा का मेला - बाँसवाड़ा
(C) करणी माता का मेला - देशनोक (D) दधिमती माता का मेला - नाथद्वारा
84. खालसा, विरक्त, उंत्तरादे, खाकी तथा नागा - ये किस सम्प्रदाय या पंथ की शाखाएँ हैं?
- (A) सूफी सम्प्रदाय (B) बिश्नोई सम्प्रदाय (C) दादू पंथ (D) कबीर पंथ
85. गोरखनाथ सम्प्रदाय की प्रमुख शाखा 'बैराग पंथ' का राजस्थान में केन्द्र कहाँ रहा है?
- (A) राताडुंगा (पुष्कर) (B) सांगिया जी (जैसलमेर)
(C) देशनोक (बीकानेर) (D) मण्डोर (जोधपुर)
86. प्रसिद्ध लोक वाद्य 'रावणहत्था' है -
- (A) वायु वाद्य (B) तंत्री वाद्य (C) ताल वाद्य (D) धातु (पीतल) वाद्य
87. 'डिंगल' और 'पिंगल' किससे सम्बन्धित हैं?
- (A) चित्रकला शैलियाँ (B) लोकनृत्य (C) साहित्यिक परम्पराएँ (D) वाद्य यंत्र

88. निम्न में से कौनसा स्थान ब्लू पॉटरी के लिए विख्यात है?
 (A) जोधपुर (B) उदयपुर (C) जयपुर (D) बीकानेर
89. निम्नलिखित पर विचार कीजिए –
 (I) पत्ता की हवेली (II) जैमल जी तालाब (III) मीरा बाई का मंदिर (IV) गोरा-बादल महल
 उपर्युक्त सभी आपको निम्नलिखित में से किस दुर्ग में देखने को मिलेंगे?
 (A) चित्तौड़ का किला (B) आम्बर का किला (C) कुम्भलगढ़ (D) मेहरानगढ़
90. निम्नलिखित में से कौनसा किला राजस्थान की उत्तरी सीमा का प्रहरी कहलाता है?
 (A) लोहागढ़ (B) करौली का राजमहल
 (C) कुम्भलगढ़ का किला (D) भटनेर का किला
91. निम्नलिखित में से किसे 'सरगासूली' भी कहा जाता है?
 (A) पटवों की हवेली (B) सालिम सिंह की हवेली
 (C) ईसरलाट (D) जंतर-मंतर
92. नथमल की हवेली और पटवों की हवेली कहाँ स्थित हैं?
 (A) जैसलमेर (B) करौली (C) फतेहपुर शेखावटी (D) लक्ष्मणगढ़
93. 'पैलेस ऑन व्हील्स' किससे सम्बन्धित है?
 (A) सड़क परिवहन (B) हवाई पर्यटन (C) लक्जरी रेल पर्यटन (D) ऊँट सफारी
94. 'गोल्डन ट्रायंगल' में कौन-कौनसे शहर सम्मिलित हैं?
 (A) जयपुर-जोधपुर-उदयपुर (B) दिल्ली-आगरा-जयपुर
 (C) जैसलमेर-बीकानेर-अजमेर (D) कोटा-बून्दी-चित्तौड़गढ़
95. निम्नलिखित में से कौनसा महल जल दुर्ग की श्रेणी में आता है?
 (A) मेहरानगढ़ (B) तारागढ़ (C) जयमहल (D) गागरौन दुर्ग
96. राजस्थान साहित्य अकादमी कहाँ स्थित है?
 (A) जयपुर (B) जोधपुर (C) उदयपुर (D) बीकानेर
97. रणकपुर के प्रसिद्ध चौमुखा मन्दिर का शिल्पी कौन था?
 (A) हरचंद पोद्दार (B) देपाक (C) तोलाराम (D) राव चन्द्रसेन
98. निम्नलिखित में से किस शासक ने भरतपुर की स्थापना की थी?
 (A) बदनसिंह (B) सूरजमल (C) भारमल (D) अभय सिंह
99. बिजौलिया आन्दोलन मुख्यतः किसके विरुद्ध था?
 (A) ब्रिटिश सेना (B) जागीरदारों द्वारा लगाए गए भारी कर
 (C) ब्रिटिश नीति (D) शिक्षा सुधार
100. 'कोतवाल' का पद सम्बन्धित था –
 (A) शिक्षा से (B) नगर प्रशासन एवं कानून व्यवस्था से
 (C) कृषि से (D) व्यापार से

भाग-स
शिक्षण अभिक्षमता एवं अभिवृत्ति

101. एक अच्छे लीडर को ध्यान देना चाहिए -
(A) हर काम का सूक्ष्म प्रबंधन करने में (B) दूसरों से सलाह लिए बिना अकेले काम करने में
(C) टीम को सशक्त बनाने और प्रेरित करने में (D) दूसरों के काम का श्रेय लेने में
102. निम्नलिखित में से कौन बाहरी मूल्यांकन का एक उदाहरण है?
(A) विषय शिक्षकों द्वारा लिया गया कक्षा परीक्षण
(B) राष्ट्रीय स्तर की बोर्ड परीक्षाएं
(C) सहपाठियों द्वारा मूल्यांकन किए गए मौखिक प्रस्तुतीकरण
(D) स्व-मूल्यांकन अभ्यास
103. मौखिक संप्रेषण का सही उदाहरण चुनें -
(A) रिपोर्ट (B) अखबार
(C) आमने-सामने बातचीत (D) नोट्स
104. शिक्षा में नैदानिक मूल्यांकन का मुख्य उद्देश्य क्या है?
(A) विद्यार्थियों के कुल प्रदर्शन के आधार पर उन्हें रैंक देना।
(B) अधिगम में आने वाली कठिनाइयों की पहचान करना और उपचारात्मक उपाय प्रदान करना।
(C) पाठ्यक्रम के अंत में अंतिम ग्रेड देना।
(D) राष्ट्रीय स्तर पर विद्यार्थियों के स्कोर की तुलना करना।
105. सामाजिक भावनाएँ इसमें मदद करती हैं -
(A) सफलता (B) जलन
(C) चिंता (D) ईर्ष्या
106. निम्नलिखित में कौनसा CCE के तहत मूल्यांकन का सबसे अच्छा वर्णन करता है?
(A) अकादमिक वर्ष के आखिर में किया जाना ✗
(B) पढ़ाई के दौरान किया जाना
(C) अंतिम ग्रेडिंग के लिए एक-बार का परीक्षण होना
(D) सिर्फ विद्यार्थियों को रैंक देने के लिए इस्तेमाल किया जाना ✗
107. कौनसा व्यवहार प्राथमिक शिक्षक के सकारात्मक व्यावसायिक दृष्टिकोण को दर्शाता है?
(A) धीमी गति से सीखने वाले विद्यार्थियों की उपेक्षा करना
(B) नियमित पाठ-योजना बनाना
(C) विद्यालयीय गतिविधियों से बचना ✗
(D) पक्षपात करना ✓
108. निम्नलिखित में से कौनसी त्रि-आयामी शिक्षण अधिगम सहायक सामग्री नहीं है?
(A) नक्शा (B) ग्लोब
(C) मॉडल (D) वास्तविक वस्तु
109. निम्नलिखित में से कौनसा रचनात्मकता का तत्व नहीं है?
(A) मौलिकता (B) प्रवाह
(C) नवीनता (D) कठोरता

110. निम्नलिखित में से कौन शिक्षक की व्यावसायिक नैतिकता का संकेतक है?
 (A) समय की पाबंदी (B) कठोर दंड
 (C) अधिकार (D) व्यक्तिगत पक्षपात
111. रचनात्मकता के संबंध में निम्नलिखित में से कौनसा कथन सही नहीं है?
 (A) रचनात्मकता एक लक्ष्य-उन्मुख प्रक्रिया है।
 (B) रचनात्मकता सार्थक ज्ञान पर निर्भर करती है।
 (C) रचनात्मकता में एक व्यक्ति नई और अलग चीजें बनाता है।
 (D) रचनात्मकता का रूप ठोस होता है, अमूर्त नहीं।
112. प्रभावी नेतृत्व के लिये किस प्रकार की बुद्धिमत्ता आवश्यक है?
 (A) भावनात्मक बुद्धिमत्ता (B) तकनीकी बुद्धिमत्ता
 (C) राजनीतिक बुद्धिमत्ता (D) यांत्रिक बुद्धिमत्ता
113. सृजनात्मकता से अभिप्राय है -
 (A) विचारों की पुनरावृत्ति (B) नए एवं उपयोगी विचार उत्पन्न करना
 (C) तथ्यों का स्मरण (D) निर्देशों का पालन
114. शिक्षण अभिरुचि का अर्थ है -
 (A) विषय-वस्तु ज्ञान (B) शिक्षण अनुभव
 (C) कक्षा अधिकार (D) प्रभावी शिक्षण की स्वाभाविक क्षमता
115. जाति, लिंग और धर्म किससे संबंधित हैं?
 (A) जैविक कारक से (B) संज्ञानात्मक विकास से
 (C) कक्षा प्रबंधन से (D) सामाजिक विविधता से
116. शिक्षक की मुख्य भूमिका है -
 (A) जानकारी देना (B) अधिगम को सुगम बनाना
 (C) छात्रों को नियंत्रित करना (D) पाठ्यक्रम पूरा करना
117. एक उत्तरदायी शिक्षक -
 (A) जवाबदेही से बचता है। (B) शिक्षण पर आत्मचिंतन करता है।
 (C) शिक्षार्थियों को दोष देता है। (D) प्रतिपुष्टि का विरोध करता है।
118. संप्रेषण प्रक्रिया को कौनसा तत्व पूर्ण करता है?
 (A) प्रेषक (B) संदेश
 (C) माध्यम (D) प्रतिपुष्टि
119. CCE में "सतत" शब्द का तात्पर्य है -
 (A) वर्षांत परीक्षा (B) नियमित एवं निरंतर मूल्यांकन
 (C) केवल मासिक परीक्षाएं (D) एक बार का मूल्यांकन
120. सृजनात्मक चिंतन मुख्यतः किससे संबंधित है?
 (A) एक सही उत्तर (B) अनेक संभावित उत्तर
 (C) यांत्रिक प्रतिक्रिया (D) स्मरण

121. निम्न में से कौनसी सृजनात्मक व्यक्ति की विशेषता नहीं है?
 (A) मौलिकता (B) लचीलापन
 (C) जिज्ञासा (D) रटत अधिगम
122. चर्चा विधि सर्वाधिक प्रभावी होती है, जब कक्षा का आकार हो -
 (A) बहुत बड़ा (B) मध्यम
 (C) अत्यंत छोटा (D) अप्रासंगिक
123. शिक्षार्थी-केंद्रित कक्षा के लिए कौनसी नेतृत्व शैली सर्वोत्तम है?
 (A) निरंकुश (B) लोकतांत्रिक
 (C) नौकरशाही (D) अधिकारीवादी
124. शिक्षण को सबसे अच्छे तरीके से कैसे परिभाषित किया जा सकता है?
 (A) विद्यार्थियों को जानकारी देना। (B) कक्षा अनुशासन नियंत्रित करना।
 (C) अधिगम एवं विकास को सुगम बनाना। (D) पाठ्यक्रम पूरा करना।
125. एक अच्छे शिक्षक को मुख्यतः होना चाहिए -
 (A) कठोर (B) प्रभुत्वशाली
 (C) मौन (D) सहानुभूतिशील
126. सामाजिक संवेदनशीलता विकसित करने के लिए निम्नलिखित में से कौनसा कौशल महत्त्वपूर्ण है?
 (A) आलोचनात्मक सोच (B) तर्कशक्ति
 (C) सहानुभूति (D) तर्क क्षमता
127. एक सामाजिक रूप से संवेदनशील शिक्षक निम्नलिखित में से क्या करेगा?
 (A) विद्यार्थियों से अपने लिए उपहार मंगाएगा।
 (B) विद्यार्थियों को उपहार वितरित करेगा।
 (C) विद्यार्थियों की बातों को ध्यान से सुनेगा।
 (D) विद्यार्थियों द्वारा प्रतिक्रिया न देने पर उनकी आलोचना करेगा।
128. एक शिक्षक को अध्ययन करना चाहिए -
 (A) परीक्षा उत्तीर्ण करने तक
 (B) शिक्षक के रूप में नियुक्त होने तक
 (C) प्रत्येक कक्षा में पढ़ाने से पहले
 (D) जीवन भर
129. एक शिक्षक के पेशेवर दृष्टिकोण की महत्त्वपूर्ण विशेषता है -
 (A) शिक्षण के प्रति लगाव और विद्यार्थियों की सफलता में वास्तविक रुचि
 (B) एक अनम्य, अपरिवर्तनीय पाठ योजना का कड़ाई से पालन
 (C) उच्च उपलब्धि वाले विद्यार्थियों पर ध्यान केंद्रित करना
 (D) विद्यार्थियों के साथ संवाद की तुलना में प्रशासनिक कार्यों को प्राथमिकता देना
130. एक शिक्षक के लिए कक्षा में संचार है -
 (A) कला (B) विज्ञान
 (C) कला व विज्ञान दोनों (D) उपरोक्त में से कोई नहीं
131. सी.सी.ई. का प्रयोग स्कूलों में निम्न उद्देश्यों के लिए किया जाता है -
 (A) विद्यार्थियों को मंदबुद्धि, कमजोर और बुद्धिमान के रूप में वर्गीकृत करने के लिए।
 (B) विद्यार्थियों के प्रदर्शन की तुलना करने के लिए।
 (C) विद्यार्थियों का विभिन्न प्रकार से मूल्यांकन करने और प्रतिक्रिया प्रदान करने के लिए।
 (D) जब विद्यार्थी बेहतर प्रदर्शन नहीं कर रहा हो, तो नकारात्मक प्रतिक्रिया प्रदान करने के लिए।

132. निम्नलिखित में से कौनसा कथन सही नहीं है?
- (A) रचनात्मकता और बुद्धिमत्ता अलग-अलग अवधारणाएँ हैं।
 (B) प्रतिभावान बच्चा रचनात्मक भी होता है। ✓
 (C) प्रत्येक बच्चा रचनात्मक अभिव्यक्ति में सक्षम होता है।
 (D) रचनात्मकता एक लचीली प्रक्रिया है। ✓
133. कक्षा में रचनात्मकता को बढ़ावा देने के लिए पाठ्यक्रम विकसित करते समय निम्नलिखित में से कौनसा तत्व आवश्यक नहीं है?
- (A) कल्पनाशीलता (B) मौलिकता
 (C) समय की पाबंदी (D) उत्पादकता
134. निम्नलिखित में से कौनसा विकल्प विद्यालय के नेता की भूमिका का वर्णन करता है?
- (A) एक नेता विज्ञान (दृष्टिकोण) रखता है।
 (B) एक नेता विज्ञान (दृष्टिकोण) से प्रेरित होता है।
 (C) एक नेता साझा विज्ञान (दृष्टिकोण) विकसित करता है।
 (D) एक नेता अपने विज्ञान (दृष्टिकोण) को बलपूर्वक लागू करता है। ✗
135. निम्नलिखित में से कौनसा व्यवहार अधिगम की श्रेणी में आता है?
- (A) गलती से कांटा चुभने पर उंगली पीछे खींच लेना।
 (B) भूख लगने पर शिशु का रोना।
 (C) जीभ में दोष के कारण हकलाना।
 (D) एक बार जलने पर दोबारा गर्म बर्तन को सावधानीपूर्वक छूना।
136. निम्नलिखित में से कौनसा कथन अधिगम के संदर्भ में सही नहीं है?
- (A) नए व्यवहार का अधिग्रहण (B) पुराने व्यवहार का सुदृढीकरण
 (C) पुराने व्यवहार का दुर्बलीकरण (D) व्यवहार में अस्थायी परिवर्तन
137. एक प्रभावशाली संप्रेषण किसकी अपेक्षा नहीं करता है?
- (A) वाक् पद्धति में परिवर्तन (B) सटीक हावभाव
 (C) विषयवस्तु पर अधिकार (D) आकर्षक व्यक्तित्व
138. जब विद्यार्थी आपकी कक्षा में ध्यान नहीं देते हैं, तो आप क्या करेंगे?
- (A) इस समस्या की अपेक्षा करेंगे। (B) इसके कारणों को जानेंगे और दूर करेंगे।
 (C) विद्यार्थियों को दंड देंगे। (D) विद्यार्थियों को शांत रहने को कहेंगे।
139. विद्यालय में सामाजिक संबंधों की स्थापना की जा सकती है -
- (A) सहयोग से (B) प्रतिस्पर्धा से
 (C) मित्रवत व्यवहार से (D) उदासीनता से
140. विद्यार्थियों में सामाजिक गुणों के विकास के लिए आप सर्वोत्तम उपाय क्या करेंगे?
- (A) विद्यालय में सांस्कृतिक गतिविधियों को आयोजित करेंगे।
 (B) विद्यालय में अभिभावक-अध्यापक बैठक का आयोजन करेंगे।
 (C) अनुकरणात्मक अधिगम को सुदृढ करेंगे। ✗
 (D) विद्यालय में क्लब गतिविधियों का आयोजन करेंगे।

141. कौनसी विधि द्वारा विद्यार्थी अधिकतम सीख सकते हैं?
 - (A) देखने से (B) पढ़ने से
 - (C) सुनकर (D) स्वयं करके
142. निम्नलिखित में से कौनसा संप्रेषण कौशल का घटक नहीं है?
 (A) बोलना (B) सक्रिय श्रवण
 - (C) शारीरिक भाषा अथवा अशाब्दिक कौशल (D) चिंतन
143. आप अपनी कक्षा के बच्चों का आकलन उनकी स्वयं की सीखने की गति के अनुरूप करना चाहते हैं, तो आप क्या करेंगे?
 (A) रचनात्मक आकलन (B) योगात्मक आकलन
 - (C) निदानात्मक आकलन (D) उपचारात्मक आकलन
144. आप अपने विद्यार्थियों द्वारा की गई गलतियों का कारण जानकर सुधारने हेतु क्या करेंगे?
 (A) उनके लिए मास्टर ट्रेनर की व्यवस्था करेंगे।
 (B) इस हेतु अध्यापकों को प्रशिक्षित करेंगे।
 (C) विद्यार्थियों को गलतियाँ नहीं करने हेतु सचेत करेंगे।
 (D) उपचारात्मक शिक्षण की व्यवस्था करेंगे।
145. आप अपनी कक्षा में किस प्रकार का नेतृत्व पसंद करेंगे?
 (A) अनौपचारिक नेतृत्व (B) सत्तावादी नेतृत्व
 (C) बाह्य नेतृत्व (D) प्रजातंत्रात्मक नेतृत्व
146. निम्नलिखित में से कौनसी शिक्षण की पूर्व क्रिया अवस्था है?
 - (A) कक्षा की अनुभूति (B) शैक्षिक लक्ष्यों का निर्धारण
 - (C) शिक्षार्थियों का निदान (D) क्रिया एवं प्रतिक्रिया
147. एक नेता के रूप में आप अपने व्यक्तित्व में कौनसा गुण पसंद नहीं करेंगे?
 (A) बुद्धिमान (B) जिम्मेदारीपूर्ण व्यवहार
 - (C) कठोरता (D) धैर्य
148. एक व्यावसायिक रूप से जिम्मेदार शिक्षक किसका पालन करता है?
 - (A) व्यक्तिगत नियमों का (B) सामुदायिक दबाव का
 - (C) विद्यालय एवं शैक्षिक नीतियों का (D) केवल विद्यार्थियों की मांगों का
149. संप्रेषण का उद्देश्य क्या है?
 (A) जानकारी देना (B) प्रभावित करना
 - (C) विचार साझा करना (D) उपरोक्त तीनों
150. अच्छे शिक्षण की विशेषता कौनसी है?
 (A) एकरसता (B) लचीलापन
 (C) सत्तावाद (D) कठोरता


Part-D

LANGUAGE PROFICIENCY : ENGLISH

Read the passage given below and answer the following questions (Q. No. 151-153) -

The 'standard of living' of any country means the average person's share of the goods and services which the country produces. A country's 'standard of living', therefore, depends first and foremost on its capacity to produce wealth. 'Wealth' in this is not money, for we do not live on money but on things that money can buy; 'goods' such as food and clothing, and 'services' such as transport and entertainment.

A country's capacity to produce wealth depends upon many factors, most of which have an effect on one another. Wealth depends to a great extent upon a country's natural resources, such as, coal, gold and other minerals, water supply and so on. Some regions of the world are well supplied with coal and minerals, and have a fertile soil and a favourable climate; other regions possess perhaps only one of these things, and some regions possess none of them. The USA is one of the wealthiest regions of the world because it has vast natural resources within its borders, its soil is fertile, and its climate is varied. The Sahara Desert, on the other hand, is one of the least wealthy.

151. What does the 'standard of living' of any country mean? 
- (A) The wealth available in the country.
(B) The natural resources available in the country.
(C) The average person's share of the goods and services which the country produces.
(D) The overall production of the country.
152. A country's capacity to produce wealth mainly depends on -
- (A) Dedicated Army (B) Bureaucrats
(C) Politicians (D) Natural Resources
153. Which region is mentioned as the least wealthy region in the world?
- (A) USA (B) UAE
(C) The Sahara Desert (D) Bangladesh
154. Complete the sentence with suitable option -
Can I have sugar, please?
- (A) little (B) a little (C) the little (D) few
155. windshield of car was shattered during the storm.
- (A) The, the (B) A, a (C) A, the (D) The, a
156. Fill in the blank with the correct option -
I no news of him since he left for Singapore.
- (A) do have (B) did not have (C) had (D) have had

157. Select the part of the sentence that contains grammatical error -
The inflation rate is currently high of India.
(A) The inflation (B) currently high (C) rate is (D) of India
158. A narrow piece of land connecting two large masses of land is -
(A) Peninsular (B) Isthmus (C) Continent (D) Gulf
159. Write the synonym of 'Detrimental' -
(A) Benign (B) Beneficial (C) Hurtful (D) Healthy
160. Write the antonym of 'Meagre' -
(A) Abundant (B) Sparse (C) Measly (D) Modest
161. One who cannot be easily pleased -
(A) Cosmopolitan (B) Frightening (C) Fastidious (D) Feminist
162. Choose the correct sentence transformation -
Poor as he is, he is honest., he is honest.
(A) If he is poor (B) Had he been poor
(C) Should he be poor (D) Despite his poverty
163. he is poor, he is honest.
(A) Not only, but also (B) If, but
(C) Although, yet (D) Undoubtedly, certainly
164. Which of the following words has incorrect spelling?
(A) Permission (B) Accommodation (C) Seperate (D) Maintenance
165. Which part has error in it?
Such an act of cruelty/ had never/ be committed/ before.
(A) Such an act of cruelty (B) had never
(C) be committed (D) before
166. Find the correct preposition -
Men should help the housework.
(A) on (B) at (C) with (D) of
167. Which of the following is a compound sentence?
(A) The little boy wanted to stand outside even though it was raining.
(B) He realised he had forgotten his mobile so he walked quickly back to the house.
(C) She did not crack the IIT JEE exam because she was sick throughout the year.
(D) Most of the students are irregular in the classes.
168. Cuckoos nests. They use the nests of other birds.
Choose the correct verb form -
(A) does not build (B) cannot build (C) did not build (D) do not build
169. Just as I (wonder) what to do next, the phone rang.
Choose the correct verb form -
(A) was wondering (B) wondered (C) have wondered (D) wonder
170. Which of the following words is correctly spelt?
(A) Occasion (B) Illussion (C) Vacum (D) Comittee

भाग-द
भाषा योग्यता : हिन्दी

171. इनमें से किस विकल्प के सभी शब्द परस्पर पर्यायवाची नहीं हैं?
(A) चंद्रमा, सुधाकर, हिमकर (B) जंगल, अरण्य, कानन
(C) गंगा, सुरसरि, अंबुधर (D) ज्योत्स्ना, चांदनी, कौमुदी
172. "दिन-रात" किस प्रकार का युग्म है?
(A) समानार्थक (B) विपरीतार्थक (C) पुनरुक्ति (D) समास
173. "तरुणी" का अर्थ "युवती" है, तो "तरणी" शब्द का अर्थ होता है -
(A) घर (B) नौका (C) लहर (D) घोड़ा
174. "लोकोपकार" में संधि है -
(A) गुण (B) वृद्धि (C) यण (D) व्यंजन
175. "हाथ-पाँव फूलना" मुहावरे का अर्थ है -
(A) प्रसन्न होना (B) घबराना (C) क्रोधित होना (D) थक जाना
176. शुद्ध शब्द है -
(A) तरुछाया (B) उछुंखल (C) निरलम्ब (D) आर्द्र
177. "यदि तुम परिश्रम करोगे, तो सफल हो जाओगे।" किस प्रकार का वाक्य है?
(A) सरल (B) संयुक्त (C) मिश्र (D) आज्ञार्थक
178. 'उपकार' में 'उप' का अर्थ है -
(A) विरोध (B) सहायक (C) निषेध (D) अधिक
179. शुद्ध शब्द है -
(A) एतिहासिक (B) हितैषी (C) औद्योगिक (D) ऐच्छिक
180. इनमें से अशुद्ध शब्द कौनसा है?
(A) संगृहीत (B) तदुपरांत (C) पुर्नजन्म (D) मृदंग
181. सुमेलित कीजिए -
स्तंभ - क (शब्द) स्तंभ - ख (प्रकार)
(1) विद्यालय (अ) यण सन्धि
(2) राजपुत्र (ब) तत्पुरुष समास
(3) माता-पिता (स) द्वंद्व समास
(4) अत्युत्साह (द) स्वर सन्धि
(A) 1-(द), 2-(ब), 3-(स), 4-(अ)
(B) 1-(अ), 2-(ब), 3-(स), 4-(द)
(C) 1-(द), 2-(स), 3-(ब), 4-(अ)
(D) 1-(अ), 2-(स), 3-(द), 4-(ब)
182. किस शब्द में "इष्ट" प्रत्यय नहीं है?
(A) गरिष्ठ (B) घनिष्ठ (C) धर्मनिष्ठ (D) कनिष्ठ
183. निम्न में से शुद्ध वाक्य है -
(A) विधि के नियम बड़े कठोर होते हैं।
(B) शीराँ एक प्रसिद्ध कवि थी।
(C) ब्रह्मपुत्र असम में बहता है।
(D) आज आपका दर्शन हो गया।



184. "जो सब कुछ जानता हो" उसके लिए एक शब्द है -
 (A) ज्ञानी (B) सर्वज्ञ (C) विद्वान (D) पंडित
185. "नीलकमल" में कौनसा समास है?
 (A) द्वंद्व (B) कर्मधारय (C) बहुव्रीहि (D) अव्ययीभाव
186. "नाच न जाने आँगन टेढ़ा" कहावत का अर्थ है -
 (A) बहाना बनाना (B) मेहनत करना (C) खुश होना (D) सहायता लेना
187. "अन्वय" शब्द का सही संधि-विच्छेद है -
 (A) अन् + वय (B) अनु + वय (C) अनु + अय (D) अन + वय
188. "सज्जन" का सन्धि विच्छेद होगा -
 (A) सत् + जन (B) सज् + जन (C) स + जन (D) सज + जन
189. "पृथ्वी" का पर्यायवाची नहीं है -
 (A) वसुंधरा (B) धरा (C) पावक (D) मेदिनी
190. "वाह! कितना सुन्दर दृश्य है।" किस प्रकार का वाक्य है?
 (A) प्रश्नवाचक (B) विस्मयादिबोधक (C) विधानवाचक (D) आज्ञार्थक
191. "राग-द्वेष" युग्म का अर्थ है -
 (A) प्रेम-शत्रुता (B) संत-असंत (C) प्रेम-स्नेह (D) नफरत-प्यार
192. शब्द और समास की दृष्टि से असंगत विकल्प है -
 (A) रसोईघर - संप्रदान तत्पुरुष
 (B) ऋणमुक्त - करण तत्पुरुष
 (C) मृगछौना - संबंध तत्पुरुष
 (D) सर्वोत्तम - अधिकरण तत्पुरुष
193. निम्न में से शुद्ध शब्द नहीं है -
 (A) अनुग्रहित (B) उज्ज्वल (C) आशीर्वाद (D) सौजन्य
194. "पर्यटन" शब्द में उपसर्ग है -
 (A) प (B) पर्य (C) परि (D) न
195. "जो छिपाने योग्य हो" के लिए निम्न में से एक शब्द है -
 (A) रहस्य (B) दुर्गम (C) गोपनीय (D) ध्वस्त
196. "जो उपकार माने" उसके लिए एक शब्द है -
 (A) कृतज्ञ (B) कृतघ्न (C) दानी (D) कृपालु
197. "अत्याचार" का सन्धि विच्छेद है -
 (A) अत् + यचार (B) अ + त्याचार (C) अति + आचार (D) अती + याचार
198. "घर का भेदी लंका ढाए" का अर्थ है -
 (A) मिश्रण संस्कृति (B) अपने निकटतम से हानि
 (C) परिश्रम का फल (D) शत्रु से नुकसान
199. "प्रज्ञा" का पर्यायवाची है -
 (A) मूर्खता (B) बुद्धि (C) आलस्य (D) चंचलता
200. वाक्यांश के लिए एक सार्थक शब्द की दृष्टि से असंगत विकल्प है -
 (A) जिसके पास न पहुँचा जा सके - दुर्गम (B) जो कहा न गया हो - अकथित
 (C) जिसका ज्ञान इंद्रियों द्वारा न हो - अगोचर (D) जो सबके आगे रहता है - अग्रणी